

社会(45分)

受験番号	
	(算用数字)

1 太郎さんは、「文学作品の歴史」に着目して近代までの歴史的分野の学習をふり返り、次の表を作成しました。(1)~(6)に答えなさい。

時代区分	文学作品の歴史
古代	・身分にかかわらずすぐれた和歌を集めた(a)「万葉集」がつけられた。 ・仮名文字が成立すると、(b)紫式部の「源氏物語」などの作品がつけられた。
中世	・鎌倉時代には「方丈記」や(c)「徒然草」などのすぐれた随筆が著された。 ・(d)室町時代には絵入りの物語である御伽草子が広く親しまれた。
近世	・(e)南蛮文化が流行する中で、ローマ字版の「平家物語」が刊行された。 ・江戸時代後期には、(f)「東海道中膝栗毛」などの小説が人気となった。

(1) 下線部(a)について、太郎さんは、「万葉集」に収められている和歌について調べ、資料を作成しました。資料の和歌をよんだ人として最も適当なのは、ア~エのうちではどれですか。一つ記号で答えなさい。

資料
から衣 裾にとりつき 泣く子らを 置きてぞ来ぬや 母なしにして

- ア 九州北部を防衛する兵士となった人 イ 調や庸を納めるために都に向かう人
ウ 東北地方の蝦夷の平定に向かう人 エ 国司として都から地方におもむく人

(2) 下線部(b)について、太郎さんは、このころの仏教について述べた文を作成しました。
[]に当てはまる適当な内容を、「極楽浄土」ということばを用いて書きなさい。

社会不安が大きく増す中で、阿弥陀仏(阿弥陀如来)にすがり、[]ことを願う浄土信仰(浄土の教え)が広まった。

(3) 下線部(c)を著した人物はだれですか。漢字四字で書きなさい。
(4) 下線部(d)のできごととして適当でないのは、ア~エのうちではどれですか。一つ記号で答えなさい。

- ア 正長の土一揆 イ 関ヶ原の戦い ウ 応仁の乱 エ 南北朝の統一

(5) 下線部(e)について、太郎さんは、南蛮文化が栄えた16世紀の世界のできごとについて述べた文を作成しました。[X]に当てはまる適当な人物名と、[Y]に当てはまる適当なことばをそれぞれカタカナで書きなさい。また、[Z]に当てはまる適当な内容を、「布教」ということばを用いて書きなさい。

16世紀にスペインやポルトガルが世界中の海に進出し、植民地を増やしていった。同じころ、ドイツで[X]が宗教改革を始め、プロテスタントとよばれる支持者を増やした。これに対して、[Y]教会でも改革を進めるためにザビエルらがイエズス会を結成し、[Z]を積極的に進めていった。

(6) 下線部(f)が著されたころのできごととして最も適当なのは、ア~エのうちではどれですか。一つ記号で答えなさい。

- ア 桜田門外の変が起こった。 イ 武家諸法度に参勤交代の制度が追加された。
ウ 生類憐みの令が出された。 エ レザノフが来航して幕府に通商を求めた。

2 次の図1、図2は緯線と経線が直角に交わる世界地図です。(1)~(5)に答えなさい。なお、図1と図2の縮尺は異なっています。

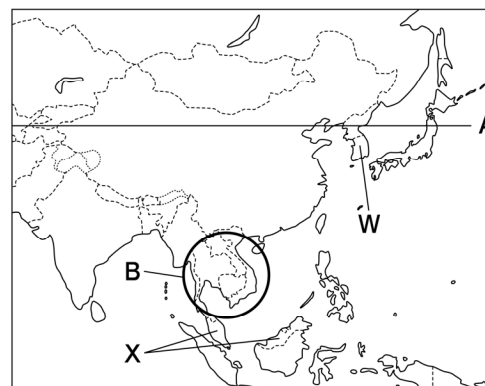


図1

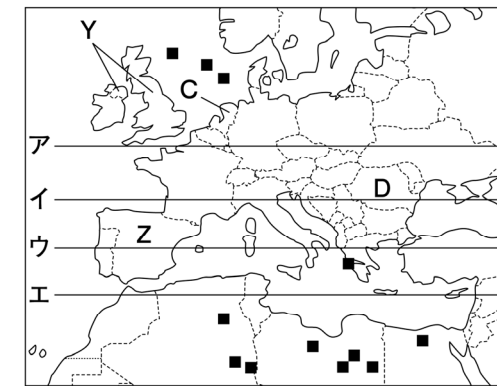


図2

- (1) 図1中のAの緯線と同じ緯度を示している緯線は、図2中のア~エのうちではどれですか。一つ記号で答えなさい。
(2) 図1中のBの地域でさかんな、一年に同じ土地で米を二回栽培することを何といいますか。漢字で書きなさい。
(3) 図2中に■で分布を示した鉱産資源は何ですか。漢字で書きなさい。
(4) 次の文は、表1をもとに読み取れることについて述べたものです。[]に当てはまる適当な内容を、「東」「西」ということばを用いて書きなさい。

表1

	1か月あたり 平均賃金 (ドル)	1人あたり 国民総所得 (ドル)
C	5522	56574
D	1228	14416

(注)2021年、(2023/24年版「世界国勢図会」から作成)

図2中のCの国とDの国はともにEUに属しているが、表1から、EUには[]という課題があることが分かる。

(5) 表2は、図1、図2中のW~Zの国の統計を示しています。表2から読み取れることとして最も適当なのは、ア~エのうちではどれですか。一つ記号で答えなさい。

表2

	人口 (万人)	65歳以上の 人口割合 (%)	発電量 (億 kWh)	再生可能エネルギー 発電量(億 kWh)
W	5183	16.7	6203	477
X	3357	7.3	1829	39
Y	6728	18.9	3260	1295
Z	4749	19.9	2937	1033

(注)人口と65歳以上の人口割合は2021年、その他は2022年。(2023/24年版「世界国勢図会」から作成)

- ア 4か国のうち、人口が最も多い国と最も少ない国とは、人口に3倍以上の差がある。
イ 4か国のうち、65歳以上の人口が最も多いのはZの国である。
ウ Wの国は、Yの国よりも人口1人あたりの発電量が多い。
エ Yの国とZの国は、発電量に占める再生可能エネルギーの割合が50%を超えている。

受験番号	
	(算用数字)

3 はるかさんは、「近現代の我が国の社会に関するできごと」について調べ、資料を作成しました。(1)～(6)に答えなさい。

資料

できごと	内容
地租改正 反対一揆	明治政府が(a)地租改正を行うと、負担が以前の年貢と変わらなかったことから地租改正反対一揆が起こり、政府は税率を下げた。
労働争議 の増加	大正 (b) の風潮のもとで、様々な(c)社会運動がさかんになる中、労働争議の件数が増加し、第1回メーデーも開催された。
国家総動員法	(d)日中戦争が長期化すると(e)国家総動員法が制定された。その中で、家庭の金属製品の回収がよびかけられた。
安保闘争	(f)日米安全保障条約の改定をめぐる、反対する人々が大規模な運動を展開し、デモ隊が国会議事堂を取り囲んだ。

(1) 下線部(a)の実施と同じ年のできごととして最も適当なのは、ア～エのうちではどれですか。一つ記号で答えなさい。

- ア ロシアの南下に対する利害が一致したことで、日英同盟が結ばれた。
- イ 内閣制度が創設され、伊藤博文が初代内閣総理大臣に就任した。
- ウ 徴兵令が出され、満20歳に達した男子は兵役の義務を負うこととされた。
- エ 自由民権運動を進める人々が大阪に集まり、国会期成同盟を結成した。

(2) (b) に当てはまる、自由主義、民主主義的な風潮をあらわすことばを、カタカナで書きなさい。

(3) 下線部(c)に関して、このころ女性の政治参加などをかかげて新婦人協会を設立した人物として最も適当なのは、ア～エのうちではどれですか。一つ記号で答えなさい。

- ア 与謝野晶子 イ 平塚らいてう ウ 津田梅子 エ 樋口一葉

(4) 下線部(d)が起こった昭和時代のできごとに関するア～エを、年代の古いものから順に並ぶように記号で答えなさい。

- ア 陸軍の青年将校らが大臣などを殺傷し、東京の中心部を占拠した。
- イ 日本軍が、ハワイの真珠湾にあるアメリカ軍基地を攻撃した。
- ウ ニューヨークの株式市場で株価が大暴落し、世界恐慌が広がった。
- エ 日本がポツダム宣言を受諾し、第二次世界大戦が終わった。

(5) 下線部(e)の法律の内容を、「物資」「国民」ということばを用いて書きなさい。

(6) はるかさんは、下線部(f)について、次の文を作成しました。X, Y に当てはまる内容の組み合わせとして最も適当なのは、ア～エのうちではどれですか。一つ記号で答えなさい。

デモ隊が国会議事堂を取り囲むなか、新しい日米安全保障条約は国会で X, そのあとに Y 内閣は総辞職した。

- ア X : 成立し Y : 池田勇人 イ X : 成立し Y : 岸信介
- ウ X : 成立せず Y : 池田勇人 エ X : 成立せず Y : 岸信介

4 けんさんは、近畿地方に関心を持ち、調べました。図1は、けんさんが作成した略地図です。(1)～(5)に答えなさい。

- (1) 図1中のAの湖を何といいますか。漢字三字で書きなさい。
- (2) 図2の雨温図が当てはまる場所として最も適当なのは、図1中のア～エのうちではどれですか。一つ記号で答えなさい。

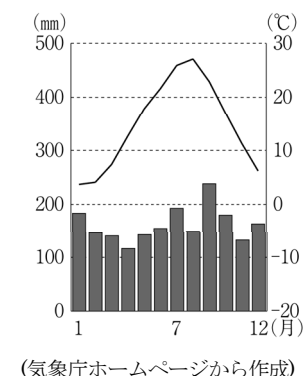


図2 (気象庁ホームページから作成)

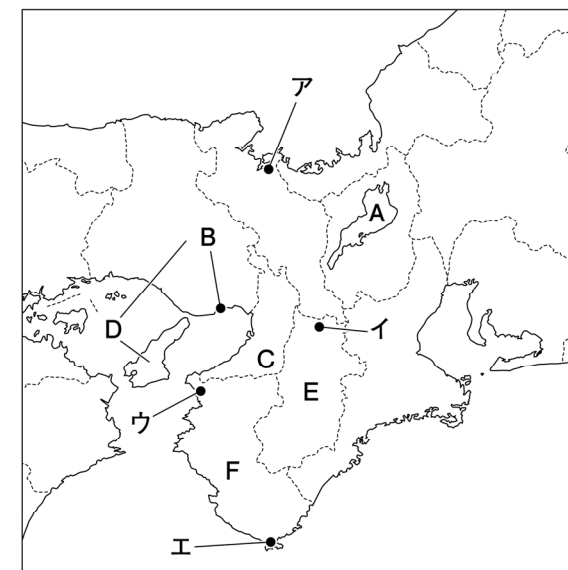


図1

(3) けんさんは、近畿地方の工業について調べ、次の文にまとめました。文中で述べている都市として最も適当なのは、ア～エのうちではどれですか。一つ記号で答えなさい。

阪神工業地帯を代表する工業都市で、他の工業都市よりも中小工場が多く集まっている。その中にはゆるまないねじや瀬戸大橋に使われているボルトなど、高い技術力が求められている様々な工業製品を製造する企業もある。

- ア 四日市市 イ 姫路市 ウ 東大阪市 エ 倉敷市

(4) けんさんは、図1中のBの都市について調べ、次の文にまとめました。文中の□に当てはまることばを書きなさい。

Bの都市は、山地が海にせまっていて平地が少ないところに都市が発達していることから、山地を削ってできた土砂を海の□に利用して、人工島のポートアイランドなどを造成し、土地を広げてきた。

(5) 表は、図1中のC～Fの府県の昼間人口と夜間人口を示しています。Cの府県の昼間人口が夜間人口よりも多くなっている理由を、D, E, Fの府県との結びつきに触れて書きなさい。

	昼間人口 (千人)	夜間人口 (千人)
C	9228	8838
D	5210	5465
E	1195	1324
F	908	923

(注)2020年。(2023年版「データでみる県勢」から作成)

受験番号	
	(算用数字)

5

かなみさんのクラスでは、政治や経済に関して興味を持ったキーワードについて、発表するためのスライドを作成しています。(1)~(8)に答えなさい。

スライド 1

人権の国際的な保障

第二次世界大戦後、国際連合で(a)人権の国際的な保障がめざされるようになりました。1948 年には (b) が採択されましたが、その内容に法的な拘束力を持たせるために、1966 年に国際人権規約が採択されました。

スライド 2

国と地方公共団体の関係

近年では、国が持っていた(c)権限の一部を地方公共団体に移す地方分権が進められています。しかし、地方公共団体の多くは(d)歳出をまかなうだけの自主財源がなく、国から支給される地方交付税交付金などの財源に依存しています。

スライド 3

消費者主権

消費者は、商品の生産者や販売者に比べて商品の知識が少なく、購入の(e)契約の際に不利益が生じがちであることから、(f)消費者を守るための法律や制度が整備されています。消費者基本法では消費者の権利を明確に規定しています。

スライド 4

景気と金融政策

資本主義経済のもとでは、(g)好景気(好況)と不景気(不況)が繰り返されます。景気を安定させるために、(h)日本銀行は金融政策を行い、公開市場操作によって世の中に出回る資金の量を調節しています。

(1) 下線部(a)に関して、請求権にふくまれる権利について述べた文として最も適当なのは、ア~エのうちではどれですか。一つ記号で答えなさい。

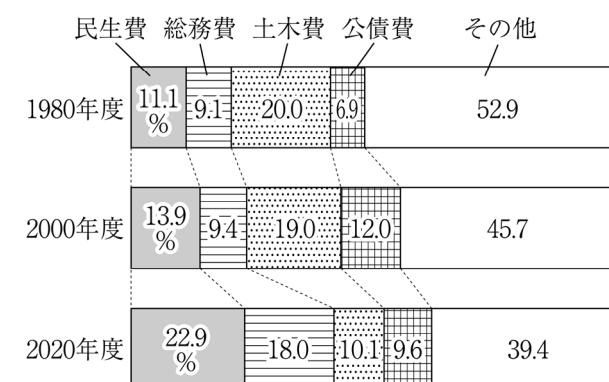
- ア すべての子どもは、学校に通って学習する権利を持つ。
- イ 労働者は団結して労働組合を結成し、使用者と交渉する権利を持つ。
- ウ 国や地方公共団体に対し、要望をする権利を持つ。
- エ 公務員の不法行為で損害を受けた場合、賠償を求める権利を持つ。

(2) (b) に当てはまることばを、漢字六字で書きなさい。

(3) 下線部(c)に関して、国政調査権を持っているところとして最も適当なのは、ア~エのうちではどれですか。一つ記号で答えなさい。

- ア 衆議院・参議院
- イ 裁判所
- ウ 内閣
- エ 天皇

(4) 下線部(d)に関して、資料 1 は、地方公共団体全体の歳出に示める内訳の推移を示しています。資料 1 中の民生費は、福祉に関連する費用のことですが、この民生費の割合が大きく増えている理由を、日本の人口構成の変化と関連づけて書きなさい。



(「数字でみる日本の 100 年」などから作成) 資料 1

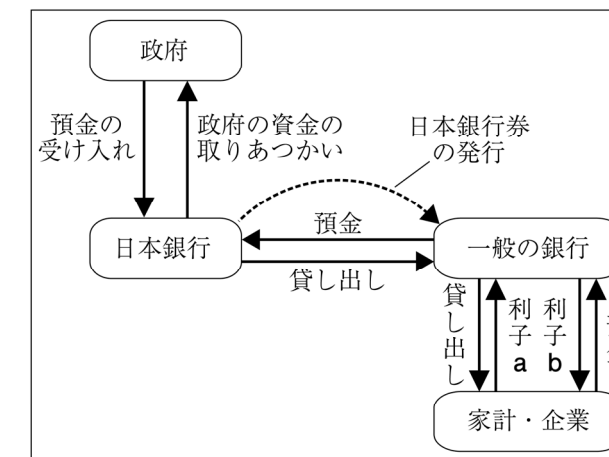
(5) 下線部(e)について、レストランで食事をする際に、購入の契約が成立する段階として最も適当なのは、ア~エのうちではどれですか。一つ記号で答えなさい。

- ア 入店をしたとき
- イ 料理を注文したとき
- ウ 料理を食べたとき
- エ レジで会計をするとき

(6) 下線部(f)に関して、商品の欠陥で消費者が被害を受けたとき、その商品をつくった企業に賠償を求めることができることを定めた法律を何といいますか。

(7) 下線部(g)に関して、好景気(好況)のときにみられることが多いインフレーションとはどのような現象か、「物価」ということばを用いて書きなさい。

(8) 下線部(h)に関して、資料 2 は、日本銀行と政府、一般の銀行、家計・企業の関係を示しています。資料 2 について述べた文として適当でないのは、ア~エのうちではどれですか。一つ記号で答えなさい。



資料 2

ア 日本銀行は政府の預金を受け入れるとともに、税の徴収を代行している。

イ 日本銀行は政府や一般の銀行とのみ取り引きし、家計や企業とは直接取り引きをしない。

ウ 一般の銀行が家計や企業に貸し出しを行うことを、間接金融という。

エ 一般に、資料 2 中の a の利率は、b の利率よりも高く設定されている。