

令和 4 年度 岡山学芸館高等学校 選抜 1 期入試【1 月 28 日】 問題（社会）

No.1

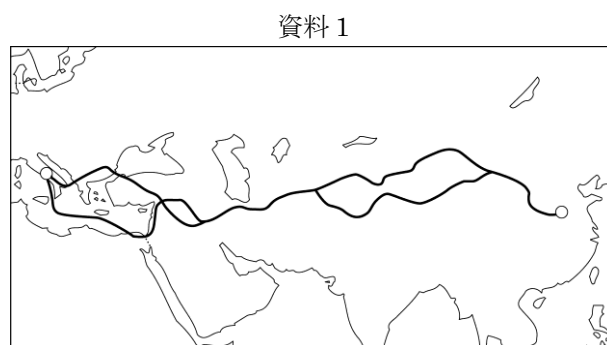
社 会（45 分）

受験番号	
	(算用数字)

1 花子さんは、我が国の歴史の授業で仏教について関心を持ち、次の表を作成しました。①～⑦に答えなさい。

テーマ	内容
仏教の伝来	(a)インドから東アジアに伝わった仏教は、6 世紀半ばに百済の王から経典などが贈られたことで、日本に公式に伝わりました。蘇我氏や(b)聖徳太子(厩戸皇子)があつく信仰し、しだいに受け入れられていきました。
東大寺の建立	奈良時代には、仏教の力で国家を平和に治めようとする考え方が強まり、(c)聖武天皇は国ごとに国分寺・国分尼寺を建てさせ、都には(d)東大寺を建てて大仏をつくらせました。
新しい宗派の誕生	(e)平安時代後期から鎌倉時代にかけて、教えがわかりやすく実行しやすい仏教の宗派が次々と生まれました。中でも禅宗は武士に広く受け入れられ、(f)中世の文化にも大きな影響を与えました。
宗門改め	江戸幕府は(g)キリスト教を禁じるとともに、人々が仏教徒であることを寺院に証明させることとしました。寺院がつくる宗門改帳は、戸籍の役割も果たすようになりました。

① 下線部(a)に関して、インドで生まれた仏教は、中央アジアを経て東アジアに伝わりました。このとき仏教が伝わる経路となった、資料 1 に——で示している交易路の名称をカタカナで書きなさい。



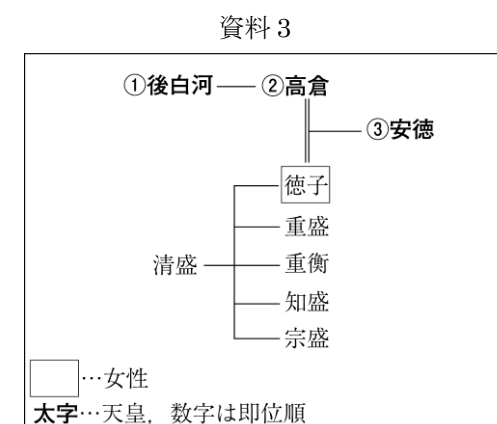
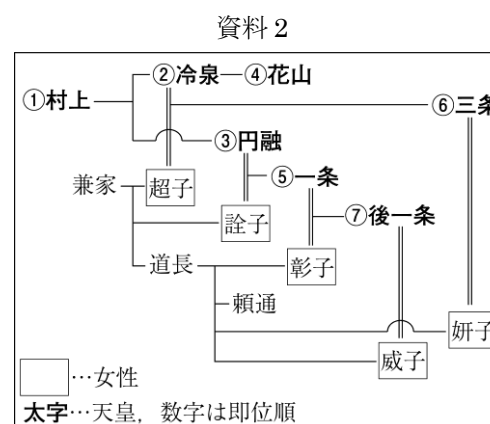
② 下線部(b)に関する次の X と Y の文について、内容の正誤を表したものとして最も適当なのは、ア～エのうちではどれですか。一つ記号で答えなさい。
 X 全国の土地と人民をすべて国家のものとする、公地公民の原則を示した。
 Y 中臣鎌足を遣隋使として派遣し、留学生や僧を同行させて政治制度や文化を学ばせた。
 ア X, Y のどちらも正しい。 イ X のみ正しい。
 ウ Y のみ正しい。 エ X, Y のどちらも誤っている。

③ 下線部(c)に関して、聖武天皇が活躍した時代に成立した書物として最も適当なのは、ア～エのうちではどれですか。一つ記号で答えなさい。
 ア 『風土記』 イ 『古今和歌集』 ウ 『南総里見八犬伝』 エ 『平家物語』

④ 下線部(d)に関して、東大寺は後に焼失しましたが再建され、南大門には運慶らがつくった金剛力士像がおかれました。金剛力士像がつけられた時期のできごととして最も適当なのは、ア～エのうちではどれですか。一つ記号で答えなさい。

- ア 平将門が関東で反乱をおこした。 イ 北条泰時が御成敗式目(貞永式目)を定めた。
 ウ 後醍醐天皇が建武の新政を行った。 エ 織田信長が足利義昭を京都から追放した。

⑤ 下線部(e)に関して、資料 2 は平安時代中期の藤原氏と皇室の系図を示しています。また、資料 3 は平安時代末の平氏と皇室の系図を示しています。平清盛は、藤原道長と似たようなことを行うことで政治の実権をにぎりました。それはどのようなことか、資料 2、資料 3 を参考にして、書きなさい。



⑥ 下線部(f)のできごとについて述べた次のア～エを、年代の古いものから順に並ぶように記号で答えなさい。
 ア 承久の乱がおこった。 イ 応仁の乱がおこった。
 ウ 日本と明との間で貿易が始まった。 エ 元の軍勢が九州北部に襲来した。

⑦ 下線部(g)に関して、次は花子さんがまとめた文の一部です。文中の□に当てはまる人物名を、カタカナで書きなさい。

16 世紀に、ローマ教皇は大聖堂の建築のために資金を集めようと免罪符を売り出した。これに対して、ドイツでは□が、スイスではカルバンが、教会の指示に従うのではなく、聖書を読み理解することを信仰の中心におくべきと主張した。これを宗教改革という。

受験番号	
	(算用数字)

2 次の図 1 は、緯線と経線が直角に交わる地図です。①～⑥に答えなさい。なお、図 1 の経線は 15 度ごとに引かれています。

- ① 図 1 中に示されていない経線として最も適当なのは、ア～エのうちではどれですか。一つ記号で答えなさい。
ア 東経 60 度 **イ** 東経 90 度
ウ 西経 60 度 **エ** 西経 90 度

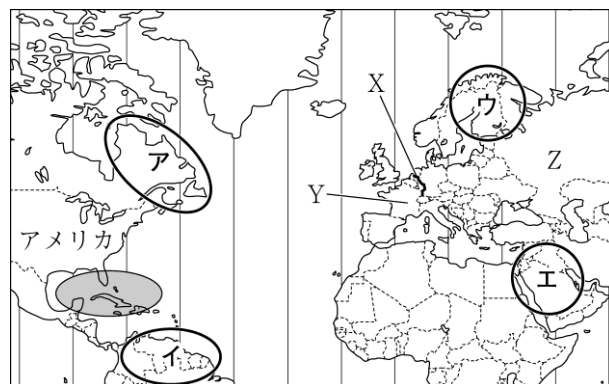



図 1

② 図 1 の X の河川は、複数の国を流れる国際河川の代表的なものです。X の河川名を書きなさい。

③ 図 2 は、図 1 のある地域で信仰する人々が多い宗教の祈りの様子を示しています。図 2 のような光景が日常的に多くみられる地域として最も適当なのは、図 1 中のア～エのうちではどれですか。一つ記号で答えなさい。



(AA/時事通信フォト) 図 2

④ 図 1 の Y の国と Z の国について述べた文として最も適当なのは、ア～エのうちではどれですか。一つ記号で答えなさい。

- ア** Y の国は EU に発足時から加盟しているが、Z の国は EU に加盟していない。
イ Y の国は EU に加盟していないが、Z の国は EU に発足時から加盟している。
ウ Y の国は EU に発足時から加盟しているが、Z の国は EU に 2000 年以降に加盟した。
エ Y の国は EU に 2000 年以降に加盟したが、Z の国は EU に発足時から加盟している。

⑤ 図 1 の (ア) の地域で発生し、アメリカ南部に暴風や大雨の被害をもたらすことがある自然現象を何といいますか。カタカナ五字で書きなさい。

⑥ 表は、図 1 のアメリカの地域別工業生産額割合を示しており、表の **ア**、**イ** は、それぞれ 1960 年と 2019 年のいずれかに当てはまります。2019 年に当てはまるのは、表の **ア**、**イ** のうちのどれですか。一つ記号で答えなさい。また、そのように判断した理由を、「サンベルト」ということばを用いて書きなさい。

表

	北東部	中西部	南部	太平洋岸	山岳地域
ア	31.6	35.5	20.2	11.0	1.7
イ	12.2	32.6	37.9	13.2	4.1

(注)単位は%。

(「地理データファイル 2021」などから作成)

3 順子さんは、「近世以降の日本の経済発展」というテーマで調べ学習を行い、次の資料 1～4 を作成しました。①～⑦に答えなさい。

資料 1

江戸時代になると **(a)**農村にも貨幣経済が広がりました。18 世紀には問屋制家内工業、**(b)**19 世紀に入ると工場制手工業がみられるようになりました。

資料 2

近代の日本の主要な輸出品となったのは生糸でした。**(c)**明治政府は官営模範工場として富岡製糸場をつくり、近代的な製糸業を取り入れました。

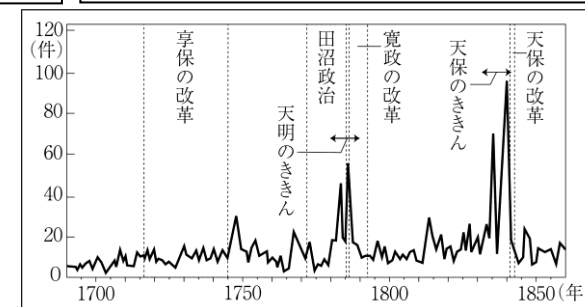
資料 3

(d)第一次世界大戦中の日本は好景気が続き、造船業などが大きく発達しました。1929 年におこった **(e)**世界恐慌は生糸の輸出に大きく影響し、農村が困窮しました。

資料 4

1950 年に **(f)**戦争がおこると、アメリカ軍が日本で軍需物資の調達を行ったことで特需景気となりました。1955 年ごろからは **(g)**高度経済成長が続きました。

① 下線部 **(a)** に関して、図は江戸時代中期以降の百姓一揆の発生件数を示しています。図から、百姓一揆の発生件数にはどのような特色があるか、書きなさい。



(「百姓一揆総合年表」から作成) 図

② 下線部 **(b)** に関して、19 世紀におこった世界のできごととして適切でないのは、ア～エのうちではどれですか。当てはまるものをすべて記号で答えなさい。

- ア** 清で太平天国の乱がおこった。 **イ** ドイツでワイマール憲法が制定された。
ウ イギリスで名誉革命がおこった。 **エ** インドでイギリスに対する大反乱がおこった。

③ 下線部 **(c)** に関して、明治政府がこのように近代的産業を育成した政策を何といいますか。漢字四字で書きなさい。

④ 下線部 **(d)** に関して、第一次世界大戦で敗戦国となった国として最も適当なのは、ア～エのうちではどれですか。一つ記号で答えなさい。

- ア** ドイツ **イ** フランス **ウ** イタリア **エ** ロシア

⑤ 下線部 **(e)** に対してアメリカが経済を立て直すために行った、農業や工業の生産を調整しながら、公共事業をさかんにおこし、労働者を保護するなどの内容をふくむ政策を何といいますか。カタカナで書きなさい。

⑥ **(f)** に当てはまる戦争名として最も適当なのは、ア～エのうちではどれですか。一つ記号で答えなさい。

- ア** ベトナム **イ** 朝鮮 **ウ** イラク **エ** 湾岸

⑦ 下線部 **(g)** について、このころ「非核三原則」を掲げ、沖縄の日本への復帰を実現させた内閣総理大臣として最も適当なのは、ア～エのうちではどれですか。一つ記号で答えなさい。

- ア** 犬養毅 **イ** 吉田茂 **ウ** 佐藤栄作 **エ** 岸信介

受験番号	
	(算用数字)

4 太郎さんは、日本各地の半島に関心を持ち、その特色について調べました。図1は、太郎さんが作成した略地図です。①～⑥に答えなさい。

- ① 図1のA～Dの経線を、経度の数字が小さい順に並ぶように記号で答えなさい。
- ② 図1のXの都市で生産されている伝統的工芸品に当てはまるのは、ア～エのうちではどれですか。一つ記号で答えなさい。
ア 南部鉄器 イ 輪島塗
ウ 清水焼 エ 小千谷ちぢみ
- ③ 図1のYの都市は、ある工業地域を代表する工業都市です。Yの都市が属する工業地域の名称を漢字で書きなさい。
- ④ 図1の知床半島は世界遺産(自然遺産)に登録されており、観光客の受け入れと自然環境の保全を両立させるような観光のあり方が取り入れられています。このような観光のあり方を何というか、カタカナで書きなさい。
- ⑤ 表は、図1の薩摩半島が属する県の農業生産額の内訳を福岡県、宮崎県と比較して示しており、P～Sには次のア～エのいずれかが当てはまります。Qに当てはまるものは、ア～エのうちではどれですか。一つ記号で答えなさい。

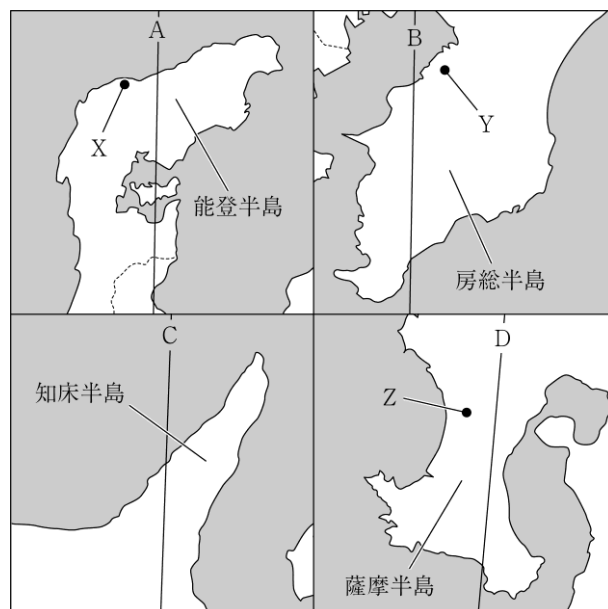


図1
表

	P	Q	R	S	その他
薩摩半島が属する県	65.2	11.4	4.3	2.2	16.9
福岡県	19.2	34.3	20.2	10.8	15.5
宮崎県	64.4	19.5	5.2	3.8	7.1

(注)単位は%。(2018年) (「データでみる県勢2021」から作成)

- ア 米 イ 野菜 ウ 果実
- ⑥ 太郎さんは、図1のZの都市の2万5千分の1地形図である図2を収集しました。図2の市役所からみて、伊集院駅が位置する方向として最も適当なのは、ア～エのうちではどれですか。一つ記号で答えなさい。
ア 北東 イ 北西
ウ 南東 エ 南西



(国土地理院発行2万5千分の1地形図「伊集院」から作成。一部改変)

図2

5 洋平さんのクラスでは、公民分野で学習した内容について、「わたしたちと〇〇」というテーマでまとめました。①～⑦に答えなさい。

項目	目的や内容
わたしたちと日本国憲法	(a)日本国憲法はさまざまな人権を広く保障しています。一方、三つの義務として、教育を受けさせる義務、(b)の義務、勤労の義務を課しています。
わたしたちと国会・内閣	わたしたちは選挙で国会議員を選び、(c)内閣総理大臣は国会議員の中から指名されます。国民は、(d)の形成によって内閣に影響を与えます。
わたしたちと地方自治	地方自治においては、首長と地方議会の議員をともに選挙で選びます。住民は一定の署名を集めることで(e)直接請求権を行使できます。
わたしたちと市場経済	家計は(f)景気変動の影響を大きく受けます。外国通貨との(g)為替相場の変動も、家計に大きな影響を与えています。

- ① 下線部(a)に関して、日本国憲法に定められている天皇の国事行為にふくまれることとして適当なのは、ア～オのうちではどれですか。当てはまるものをすべて記号で答えなさい。
ア 法律の公布 イ 国会の召集 ウ 弾劾裁判の実施
エ 条約の締結 オ 栄典の授与
- ② (b)に当てはまる語句を漢字で書きなさい。
- ③ 下線部(c)に関して、内閣総理大臣の指名で、衆議院と参議院で指名する人物が異なった場合には、どのようにして内閣総理大臣が決められるか、「両院協議会」ということばを用いて衆議院の優越の内容に触れて書きなさい。
- ④ (d)に当てはまる、マスメディアなどが中心となって形成する、多くの国民が共有する意見のことを何といいますか。漢字二字で書きなさい。
- ⑤ 下線部(e)に関する次のXとYの文について、内容の正誤を表したものとして最も適当なのは、ア～エのうちではどれですか。一つ記号で答えなさい。
X 条例の制定・改廃を求める直接請求の署名の提出先は、地方議会の議長である。
Y 人口40万人未満の地方公共団体では、首長の解職を求める直接請求は、有権者の3分の1以上の署名を必要とする。
ア X, Yのどちらも正しい。 イ Xのみ正しい。
ウ Yのみ正しい。 エ X, Yのどちらも誤っている。
- ⑥ 下線部(f)に関して、不景気(不況)の際にみられやすい、物価が継続的に下がり続ける現象のことを何といいますか。カタカナで書きなさい。
- ⑦ 下線部(g)に関して、為替相場について述べた次の文中の[]に当てはまる内容を、貿易の面に触れて、「有利」ということばを用いて書きなさい。

1ドル=120円が1ドル=100円になることを、外国通貨に対して円の価値が高まることから円高といい、このとき一般的に日本側にとっては[]という影響がみられる。